



## Pracovní list: Teplota a měření teploty

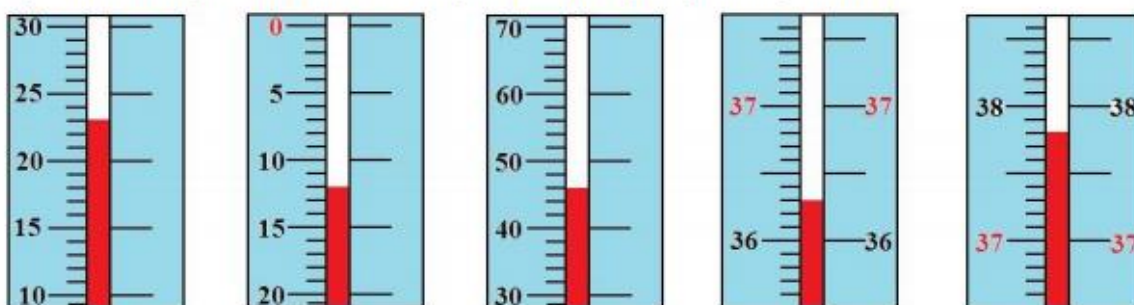
1. Jaká je hodnota nejmenšího dílku na stupnici? Jaká teplota je na teploměrech?



2. Na teploměrech nakresli rtuťový sloupec tak, aby ukazoval následující teploty:



3. Jaká je hodnota nejmenšího dílku na stupnici? Jaká teplota je na teploměrech?



4. Teplota **tání ledu** je \_\_\_\_\_, teplota **varu vody** je \_\_\_\_\_

5. Co je to **termograf** a k čemu slouží?

6. Mezi jednotlivými kolejnicemi položenými na trati za sebou existují úzké mezery. Proč tomu tak je?

---